

## ZAJĄCZKI

**Witajcie kochane dzieci. Zapraszam na kolejny dzień zabaw i zajęć.**

### **I. Mama i dzieci – ćwiczenia ortofoniczne.**

Dziecko naśladuje rodzica, który przedstawia ruchy i odgłosy zwierząt podczas opowiadania:

*Ja jestem mamą, a wy moimi dziećmi.*

*Jestem mamą żabą, wołam swoje dzieci: kum, kum, kum – dzieci podskakują i odpowiadają: kum, kum, kum;*

*Jestem mamą pszczołą i wołam swoje dzieci: bzzz – dzieci biegają, machają dłońmi i odpowiadają: bzzz;*

*Jestem mamą bocianią i wołam swoje dzieci: kle, kle, kle;*

*Jestem mamą myszką i wołam swoje dzieci: pi, pi, pi;*

*Jestem mamą dzieci i wołam dzieci: Gdzie jesteście?*

*A wy tu jesteście! A Kuku!*

II. ZoZi - Dziękuję Mamo! Dziękuję Tato! - osłuchanie się z melodią i słowami piosenki. <https://www.youtube.com/watch?v=j09kDRPi3tE>

### **1. Uczyliście mnie chodzić, nauczyliście mnie mówić,**

**jak się zachowywać**

**jak zwracać się do ludzi.**

**Ja mogę na Was liczyć,**

**wiem że mi pomożecie**

**najlepszych mam rodziców**

**na całym wielkim świecie.**

**Ref:**

**Dziękuję mamo, dziękuję tato**

**za każdą zimę, za każde lato**

**dziękuję mamo, dziękuję tato**

**za to że macie dla mnie czas**

**bardzo kocham Was!**

### **2. A najpiękniejsze chwilę**

**są kiedy mnie tulicie**

**dajecie mi buziaki**

**idziemy tak przez życie**

**co mogę dla Was zrobić?**

**jak mogę się odwdzięczyć?**

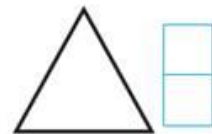

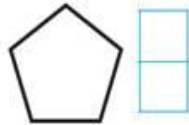
**jesteście w moim sercu**

**będziecie w mej pamięci**

**Ref: Dziękuję mamę, dziękuję tato....**

**III. 1. Rozbudzanie zainteresowań matematycznych, doskonalenie umiejętności dodawania. Przeliczanie elementów, tworzenie działań matematycznych.**

• Napisz, ile boków mają figury.



• Na każdej chmurce ma być 5 kropek. Dorysuj kropki. Uzupełnij zapisy.



• Przeczytaj działania. Dorysuj kwiaty. Uzupełnij działania.



$5 = 2 + \square$



$2 = \square + \square$

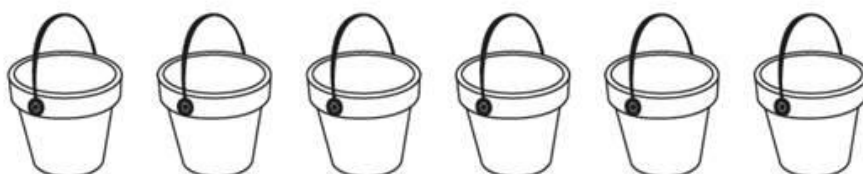


$4 = \square + \square$

- Pokoloruj wiaderka na czerwono, na żółto i na zielono. W każdym szeregu zrób to inaczej. Uzupełnij działania.



$$6 = \square + \square + \square$$



$$6 = \square + \square + \square$$



$$6 = \square + \square + \square$$



$$6 = \square + \square + \square$$

Zachęcam do obejrzenia filmiku „Zabawy z mamą i tatą”



<https://vod.tvp.pl/video/budzik,zabawy-z-mama-i-tata,24171996>